




แบบสรุปราคากลางแบบสรุปจัดซื้อครุภัณฑ์สำนักงานจำนวน 1 รายการ
 องค์การบริหารส่วนตำบลบ้านโตก ประมาณการเมื่อ 6 พ.ย. 2566


ลำดับ	รายการ	หน่วย	จำนวน	ราคา/หน่วย	ราคาทุน	หมายเหตุ
1	ครุภัณฑ์สำนักงาน-ผ้าม่านพร้อมอุปกรณ์ (ห้องสำนักปลัด) ผ้าม่านพร้อมอุปกรณ์ ผ้าม่านแบบ 2 ชั้น พร้อมอุปกรณ์และติดตั้ง					จากใบเสนอราคา จากร้าน/หจก.
	1.1 ผ้าม่านหน้าต่าง แบบรีดจีบ ขนาด กว้าง 2.00 เมตรX สูง 2.00 เมตร	ช่อง	8	3,250	26,000	
	1.2 ผ้าซับโปรง รีดจีบ ขนาดกว้าง 2.00 เมตรX สูง 2.00 เมตร	ช่อง	8	3,000	24,000	

รวม
คิดเป็นเงินงบประมาณ (ห้าหมื่นบาทถ้วน) 50,000

ลงชื่อ..........ประธานกรรมการ
(นางสาวจาร์นีย์ ทองดี)
หัวหน้าสำนักปลัด

ลงชื่อ..........กรรมการ
(นางสาวลภัสสรดา เจตียังค์)
นักทรัพยากรบุคคลชำนาญการพิเศษ

ลงชื่อ..........กรรมการ
(นายอรุณพงศ์ จันทพัฒน์)
นักวิเคราะห์นโยบายและแผนชำนาญการ

ผู้เห็นชอบ..........
(นายชัญญ์ สุพลพิชิต)
ปลัดองค์การบริหารส่วนตำบล รักษาการแทน
นายกองค์การบริหารส่วนตำบลบ้านโตก



1111

THE UNIVERSITY OF CHICAGO

PHYSICS DEPARTMENT

PHYSICS 551: QUANTUM MECHANICS

PROBLEM SET 10

DATE: _____

NAME: _____

SECTION: _____

INSTRUCTOR: _____

TA: _____

PROFESSOR: _____

STUDENT ID: _____

PROBLEM 1

Consider a particle in a one-dimensional potential well...

The potential is defined by...

Find the energy eigenvalues...

and the corresponding wave functions.

Use the WKB approximation...

to estimate the energy levels.

Compare your results with the exact solution.

Discuss the validity of the WKB approximation.